




1° BÁSICO

UNIDAD 3, PRIMERA PARTE

- ❖ Longitud
- ❖ Cálculo mental
- ❖ Adición y sustracción
- ❖ Resolución de problemas
- ❖ Reversibilidad de las operaciones

LONGITUD



- ¿Quién es más alto?
- ¿Quién es más bajo?

- El papá es más alto que.....
- La mamá es más alta que.....
- El hijo es más alto que.....
- La hija es más baja que.....



LONGITUD

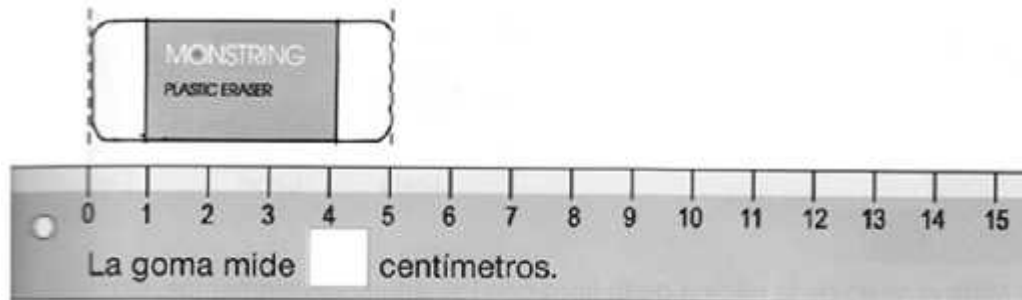


- ¿Cuál es el objeto más largo?
- ¿Cuál es el objeto más corto?



MEDIMOS EN CENTÍMETROS

Para medir usamos la regla



CÁLCULO MENTAL

- Dobles

$$2 + 2 = 4$$

$$3 + 3 = 6$$

$$4 + 4 = 8$$

$$6 + 6 = 12$$

$$10 + 10 = 20$$

$$1 + 1 = 2$$

$$7 + 7 = 14$$

$$8 + 8 = 16$$

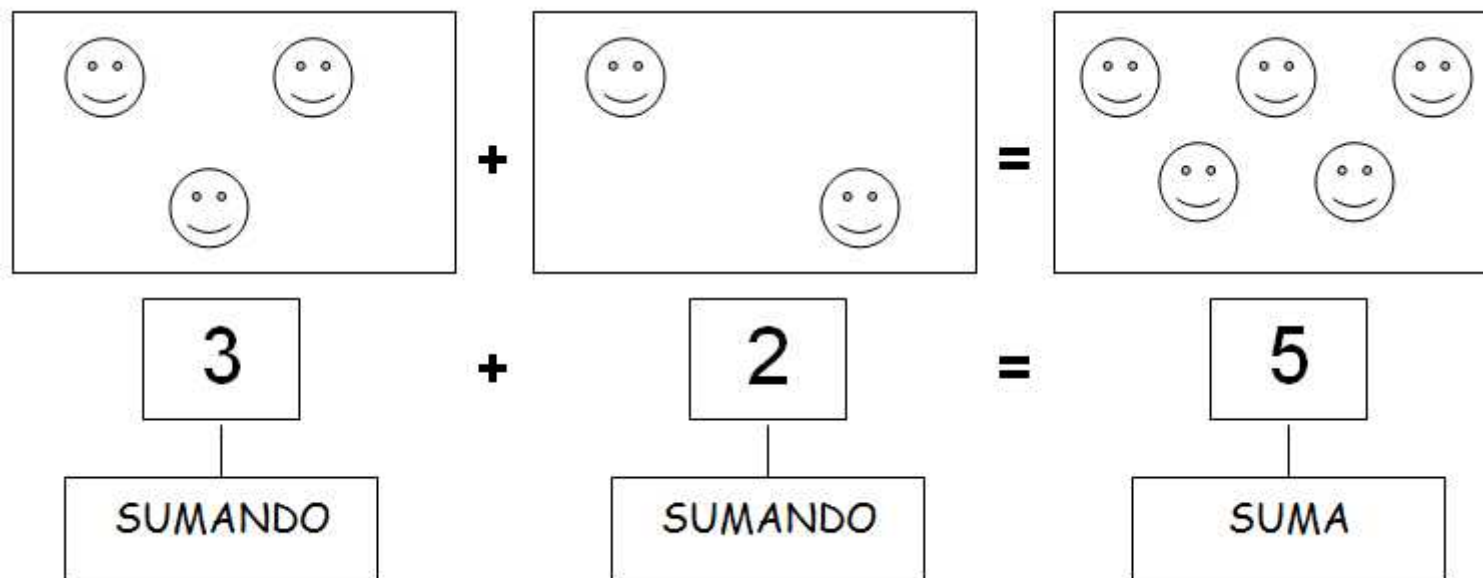
$$9 + 9 = 18$$

$$5 + 5 = 10$$



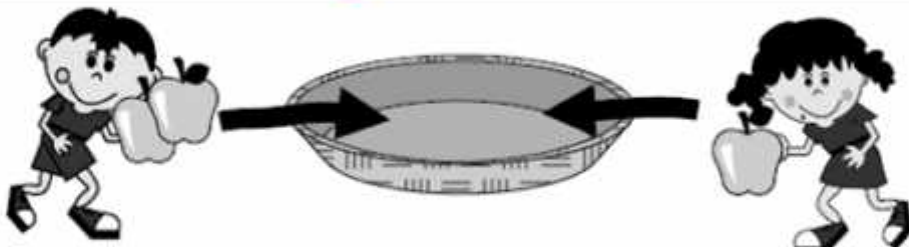
ADICIÓN

- Cuando sumas, reúnes, agregas, juntas, estás realizando la operación matemática de **La Adición**.
- El signo de **La Adición** se llama **más** y se escribe: **+**



ADICIÓN

Juntar



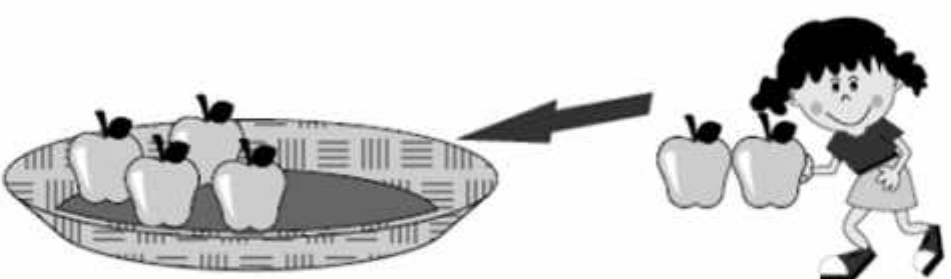
Planteamiento

$$\boxed{2} + \boxed{1} = \boxed{3}$$

Respuesta

manzanas

Agregar



Planteamiento

$$\boxed{4} + \boxed{2} = \boxed{6}$$

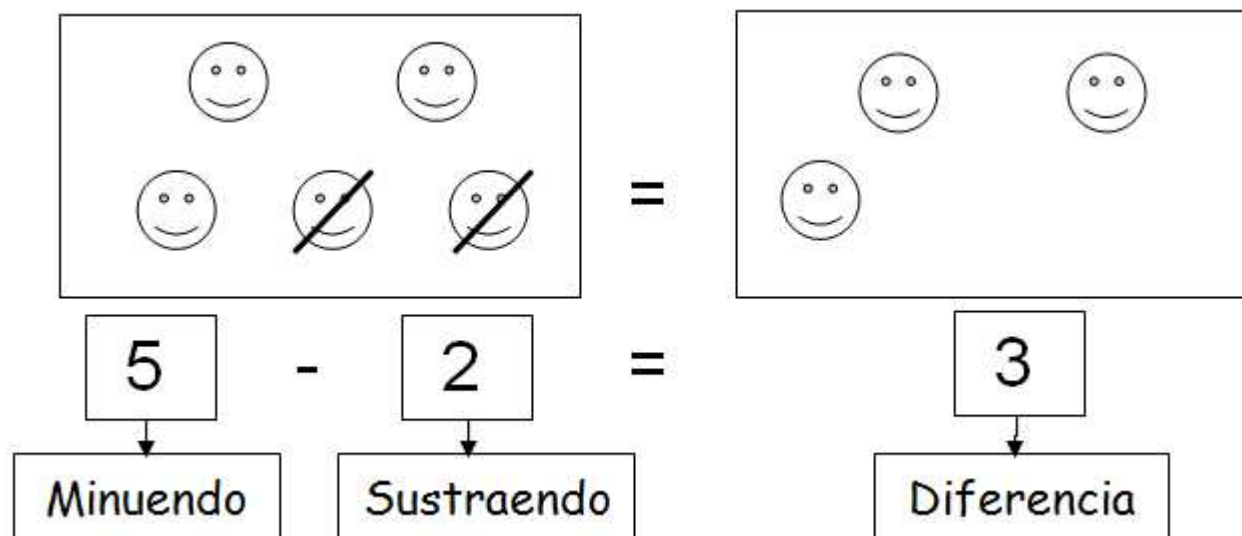
Respuesta

manzanas



SUSTRACCIÓN

- Cuando restas, quitas, extraes, retrocedes, estás realizando la operación matemática de **La Sustracción**.
- El signo de **La Sustracción** se llama **menos** y se escribe: -



SUSTRACCIÓN

Planteamiento

$$\boxed{4} - \boxed{1} = \boxed{3}$$

Respuesta

manzanas

Saco

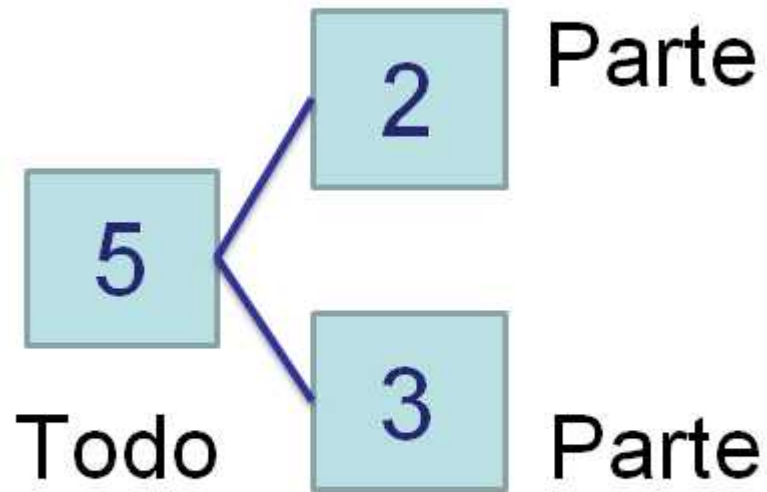
La acción también puede ser así:

- Quito una manzana
- Me como una manzana
- Regalo una manzana



ADICIÓN Y SUSTRACCIÓN OPERACIONES INVERSAS

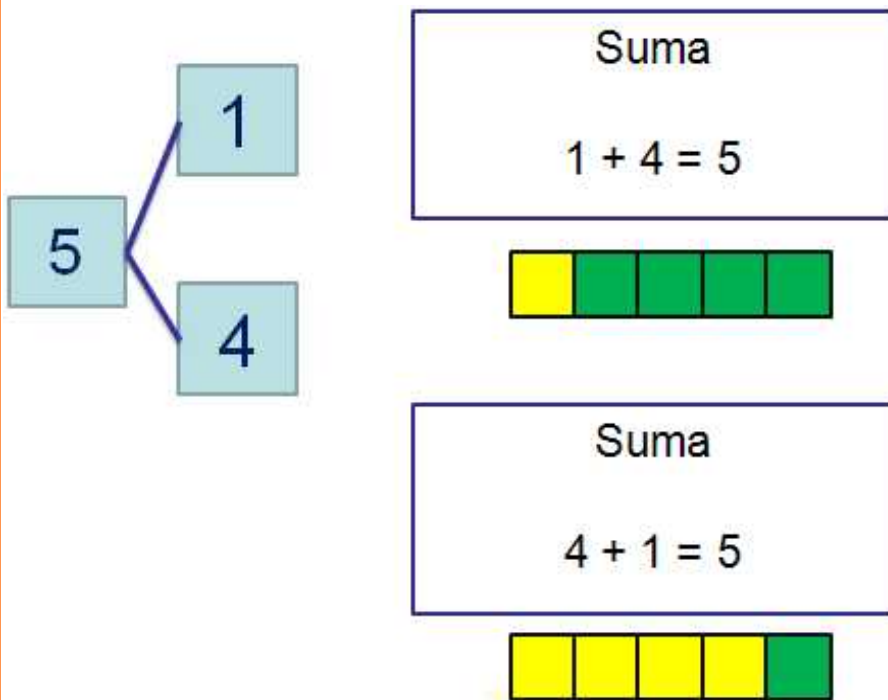
- Recuerda que...



ADICIÓN Y SUSTRACCIÓN

OPERACIONES INVERSAS

Esquema para la adición



Esquema para la sustracción

